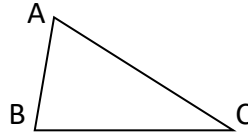


Вариант 1:

а) Найдите сумму и разность

$$\overrightarrow{AB} + \overrightarrow{BC}$$

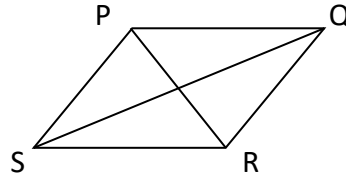
$$\overrightarrow{AC} - \overrightarrow{BC}$$



б) Найдите сумму и разность

$$\overrightarrow{SP} + \overrightarrow{SR}$$

$$\overrightarrow{SP} - \overrightarrow{RS}$$

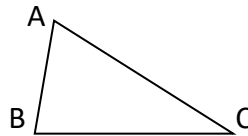


Вариант 2:

а) Найдите сумму и разность

$$\overrightarrow{BA} + \overrightarrow{CB}$$

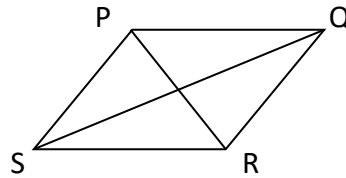
$$\overrightarrow{CA} - \overrightarrow{CB}$$



б) Найдите сумму и разность

$$\overrightarrow{QP} + \overrightarrow{QR}$$

$$\overrightarrow{QP} - \overrightarrow{RQ}$$

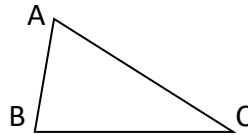


Вариант 3:

а) Найдите сумму и разность

$$\overrightarrow{BA} + \overrightarrow{AC}$$

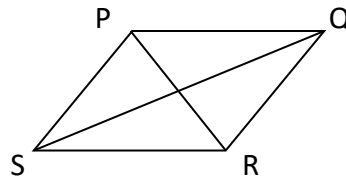
$$\overrightarrow{BC} - \overrightarrow{AC}$$



б) Найдите сумму и разность

$$\overrightarrow{PS} + \overrightarrow{PQ}$$

$$\overrightarrow{PS} - \overrightarrow{QP}$$

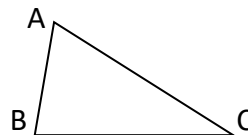


Вариант 4:

а) Найдите сумму и разность

$$\overrightarrow{CA} + \overrightarrow{AB}$$

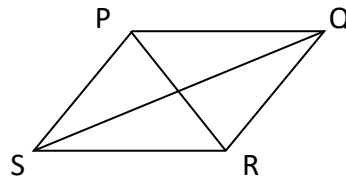
$$\overrightarrow{CB} - \overrightarrow{AB}$$



б) Найдите сумму и разность

$$\overrightarrow{RS} + \overrightarrow{RQ}$$

$$\overrightarrow{RS} - \overrightarrow{QR}$$

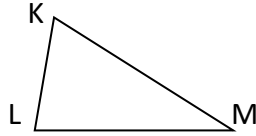


Вариант 5:

а) Найдите сумму и разность

$$\vec{KL} + \vec{LM}$$

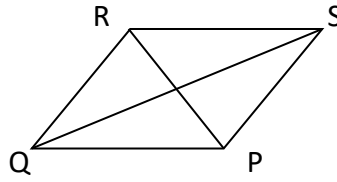
$$\vec{KM} - \vec{LM}$$



б) Найдите сумму и разность

$$\vec{SP} + \vec{SR}$$

$$\vec{SP} - \vec{RS}$$

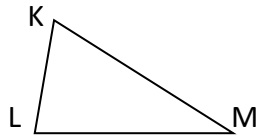


Вариант 6:

а) Найдите сумму и разность

$$\vec{LK} + \vec{ML}$$

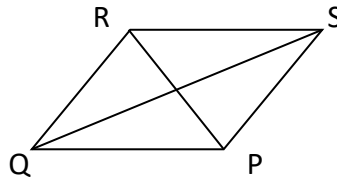
$$\vec{MK} - \vec{ML}$$



б) Найдите сумму и разность

$$\vec{QP} + \vec{QR}$$

$$\vec{QP} - \vec{RQ}$$

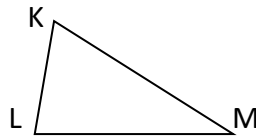


Вариант 7:

а) Найдите сумму и разность

$$\vec{LK} + \vec{KM}$$

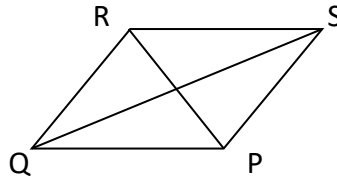
$$\vec{LM} - \vec{KM}$$



б) Найдите сумму и разность

$$\vec{PS} + \vec{PQ}$$

$$\vec{PS} - \vec{QP}$$

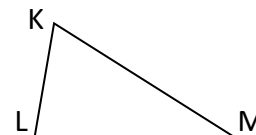


Вариант 8:

а) Найдите сумму и разность

$$\vec{CK} + \vec{KL}$$

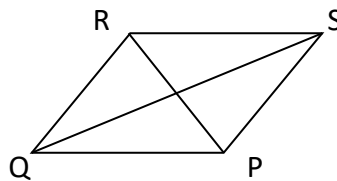
$$\vec{ML} - \vec{KL}$$



б) Найдите сумму и разность

$$\vec{RS} + \vec{RQ}$$

$$\vec{RS} - \vec{QR}$$

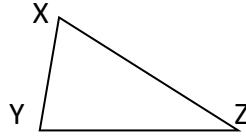


Вариант 9:

а) Найдите сумму и разность

$$\vec{XY} + \vec{YZ}$$

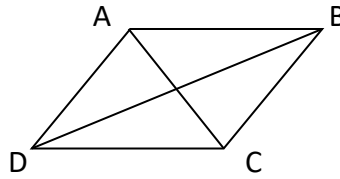
$$\vec{XZ} - \vec{YZ}$$



б) Найдите сумму и разность

$$\vec{DA} + \vec{DC}$$

$$\vec{DA} - \vec{CD}$$

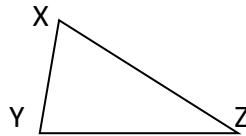


Вариант 10:

а) Найдите сумму и разность

$$\vec{YX} + \vec{ZY}$$

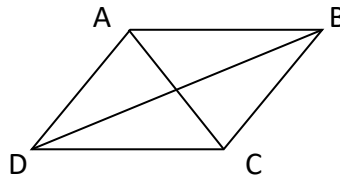
$$\vec{ZX} - \vec{ZY}$$



б) Найдите сумму и разность

$$\vec{BA} + \vec{BC}$$

$$\vec{BA} - \vec{CB}$$

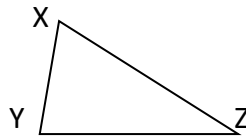


Вариант 11:

а) Найдите сумму и разность

$$\vec{YX} + \vec{XZ}$$

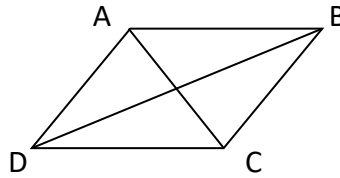
$$\vec{YZ} - \vec{XZ}$$



б) Найдите сумму и разность

$$\vec{AD} + \vec{AB}$$

$$\vec{AD} - \vec{BA}$$

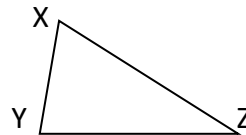


Вариант 12:

а) Найдите сумму и разность

$$\vec{ZX} + \vec{XY}$$

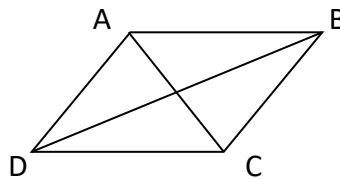
$$\vec{ZB} - \vec{XY}$$



б) Найдите сумму и разность

$$\vec{CD} + \vec{CB}$$

$$\vec{CD} - \vec{BC}$$

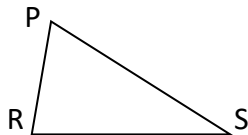


Вариант 13:

а) Найдите сумму и разность

$$\overrightarrow{PR} + \overrightarrow{RS}$$

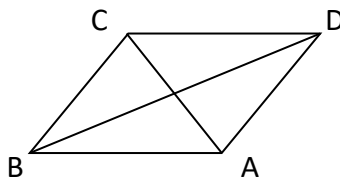
$$\overrightarrow{PS} - \overrightarrow{RS}$$



б) Найдите сумму и разность

$$\overrightarrow{DA} + \overrightarrow{DC}$$

$$\overrightarrow{DA} - \overrightarrow{CD}$$

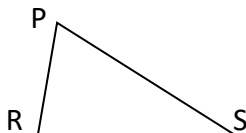


Вариант 14:

а) Найдите сумму и разность

$$\overrightarrow{RP} + \overrightarrow{SR}$$

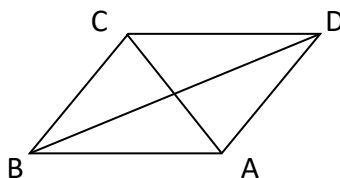
$$\overrightarrow{SP} - \overrightarrow{SR}$$



б) Найдите сумму и разность

$$\overrightarrow{BA} + \overrightarrow{BC}$$

$$\overrightarrow{BA} - \overrightarrow{CB}$$

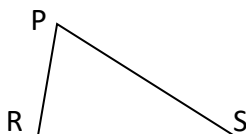


Вариант 15:

а) Найдите сумму и разность

$$\overrightarrow{RK} + \overrightarrow{PS}$$

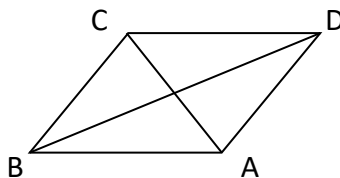
$$\overrightarrow{RS} - \overrightarrow{PS}$$



б) Найдите сумму и разность

$$\overrightarrow{AD} + \overrightarrow{AB}$$

$$\overrightarrow{AD} - \overrightarrow{BA}$$

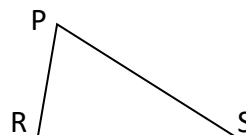


Вариант 16:

а) Найдите сумму и разность

$$\overrightarrow{CP} + \overrightarrow{PR}$$

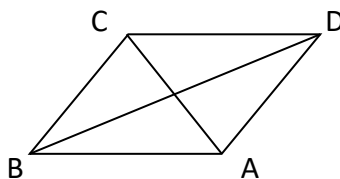
$$\overrightarrow{SR} - \overrightarrow{PR}$$



б) Найдите сумму и разность

$$\overrightarrow{CD} + \overrightarrow{CB}$$

$$\overrightarrow{CD} - \overrightarrow{BC}$$

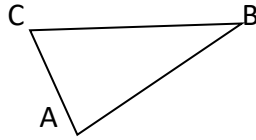


Вариант 17:

а) Найдите сумму и разность

$$\overrightarrow{AB} + \overrightarrow{BC}$$

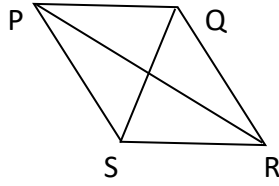
$$\overrightarrow{AC} - \overrightarrow{BC}$$



б) Найдите сумму и разность

$$\overrightarrow{SP} + \overrightarrow{SR}$$

$$\overrightarrow{SP} - \overrightarrow{RS}$$

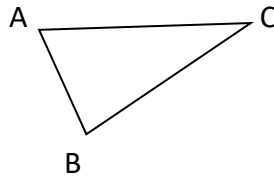


Вариант 18:

а) Найдите сумму и разность

$$\overrightarrow{BA} + \overrightarrow{CB}$$

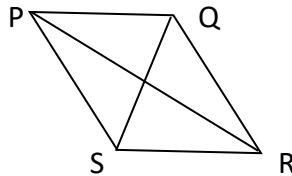
$$\overrightarrow{CA} - \overrightarrow{CB}$$



б) Найдите сумму и разность

$$\overrightarrow{QP} + \overrightarrow{QR}$$

$$\overrightarrow{QP} - \overrightarrow{RQ}$$

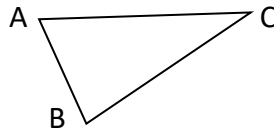


Вариант 19:

а) Найдите сумму и разность

$$\overrightarrow{BA} + \overrightarrow{AC}$$

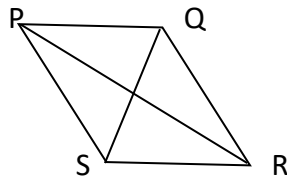
$$\overrightarrow{BC} - \overrightarrow{AC}$$



б) Найдите сумму и разность

$$\overrightarrow{PS} + \overrightarrow{PQ}$$

$$\overrightarrow{PS} - \overrightarrow{QP}$$

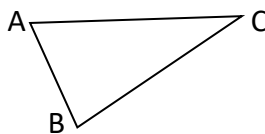


Вариант 20:

а) Найдите сумму и разность

$$\overrightarrow{CA} + \overrightarrow{AB}$$

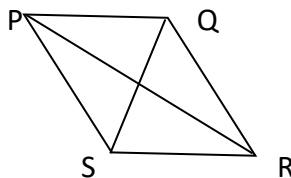
$$\overrightarrow{CB} - \overrightarrow{AB}$$



б) Найдите сумму и разность

$$\overrightarrow{RS} + \overrightarrow{RQ}$$

$$\overrightarrow{RS} - \overrightarrow{QR}$$

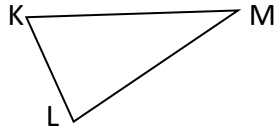


Вариант 21:

а) Найдите сумму и разность

$$\vec{KL} + \vec{LM}$$

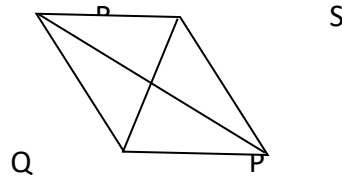
$$\vec{KM} - \vec{LM}$$



б) Найдите сумму и разность

$$\vec{SP} + \vec{SR}$$

$$\vec{SP} - \vec{RS}$$

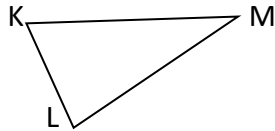


Вариант 22:

а) Найдите сумму и разность

$$\vec{LK} + \vec{ML}$$

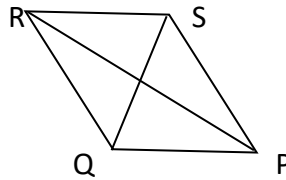
$$\vec{MK} - \vec{ML}$$



б) Найдите сумму и разность

$$\vec{QP} + \vec{QR}$$

$$\vec{QP} - \vec{RQ}$$

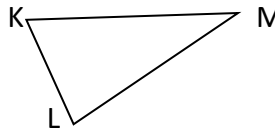


Вариант 23:

а) Найдите сумму и разность

$$\vec{LK} + \vec{KM}$$

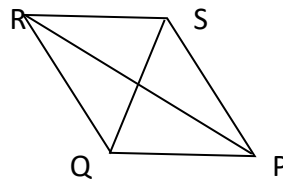
$$\vec{LM} - \vec{KM}$$



б) Найдите сумму и разность

$$\vec{PS} + \vec{PQ}$$

$$\vec{PS} - \vec{QP}$$

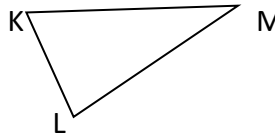


Вариант 24:

а) Найдите сумму и разность

$$\vec{MK} + \vec{KL}$$

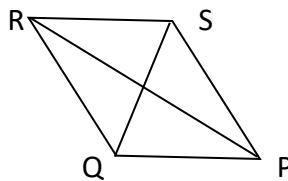
$$\vec{ML} - \vec{KL}$$



б) Найдите сумму и разность

$$\vec{RS} + \vec{RQ}$$

$$\vec{RS} - \vec{QR}$$

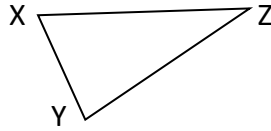


Вариант 25:

а) Найдите сумму и разность

$$\vec{XY} + \vec{YZ}$$

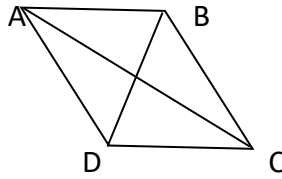
$$\vec{XZ} - \vec{YZ}$$



б) Найдите сумму и разность

$$\vec{DA} + \vec{DC}$$

$$\vec{DA} - \vec{CD}$$

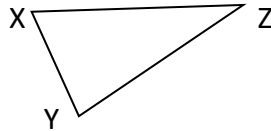


Вариант 26:

а) Найдите сумму и разность

$$\vec{YX} + \vec{ZY}$$

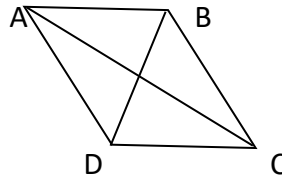
$$\vec{ZX} - \vec{ZY}$$



б) Найдите сумму и разность

$$\vec{BA} + \vec{BC}$$

$$\vec{BA} - \vec{CB}$$

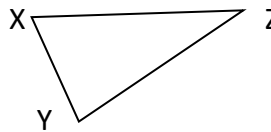


Вариант 27:

а) Найдите сумму и разность

$$\vec{YX} + \vec{XZ}$$

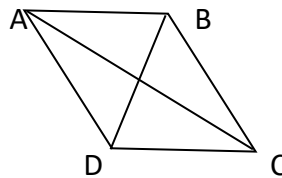
$$\vec{YZ} - \vec{XZ}$$



б) Найдите сумму и разность

$$\vec{AD} + \vec{AB}$$

$$\vec{AD} - \vec{BA}$$

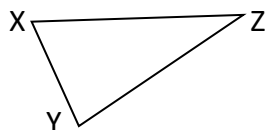


Вариант 28:

а) Найдите сумму и разность

$$\vec{ZX} + \vec{XY}$$

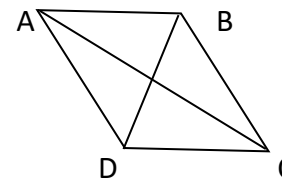
$$\vec{ZB} - \vec{XY}$$



б) Найдите сумму и разность

$$\vec{CD} + \vec{CB}$$

$$\vec{CD} - \vec{BC}$$

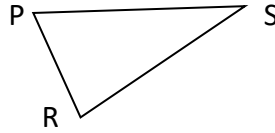


Вариант 29:

а) Найдите сумму и разность

$$\overrightarrow{PR} + \overrightarrow{RS}$$

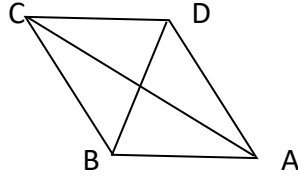
$$\overrightarrow{PS} - \overrightarrow{RS}$$



б) Найдите сумму и разность

$$\overrightarrow{DA} + \overrightarrow{DC}$$

$$\overrightarrow{DA} - \overrightarrow{CD}$$

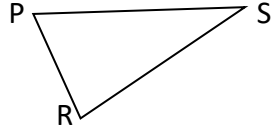


Вариант 30:

а) Найдите сумму и разность

$$\overrightarrow{RP} + \overrightarrow{SR}$$

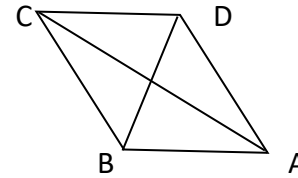
$$\overrightarrow{SP} - \overrightarrow{SR}$$



б) Найдите сумму и разность

$$\overrightarrow{BA} + \overrightarrow{BC}$$

$$\overrightarrow{BA} - \overrightarrow{CB}$$

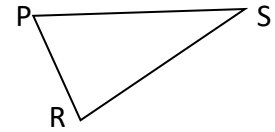


Вариант 31:

а) Найдите сумму и разность

$$\overrightarrow{RK} + \overrightarrow{PS}$$

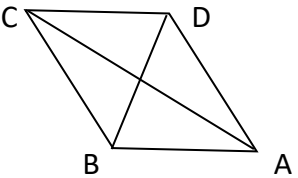
$$\overrightarrow{RS} - \overrightarrow{PS}$$



б) Найдите сумму и разность

$$\overrightarrow{AD} + \overrightarrow{AB}$$

$$\overrightarrow{AD} - \overrightarrow{BA}$$

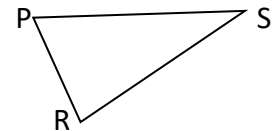


Вариант 32:

а) Найдите сумму и разность

$$\overrightarrow{CP} + \overrightarrow{PR}$$

$$\overrightarrow{SR} - \overrightarrow{PR}$$



б) Найдите сумму и разность

$$\overrightarrow{CD} + \overrightarrow{CB}$$

$$\overrightarrow{CD} - \overrightarrow{BC}$$

